



## EMEB “JORNALISTA GRANDUQUE JOSÉ

### AVALIAÇÃO 3º BIMESTRE – 2020

Período de Estudo em Casa - Distanciamento Social – Covid-19

26ª SEMANA – DE 13 a 16 de OUTUBRO DE 2020.

### 7º ANO

Nome: \_\_\_\_\_ Nº: \_\_\_\_\_ 7º \_\_\_\_\_

### 1ª PARTE: LÍNGUA PORTUGUESA

PROFESSORAS: ISABEL FIGUEIREDO DELGADO

JOYCE APARECIDA BERTANHA

GISLAINE APARECIDA DOS REIS

Leia o texto a seguir e responda a questão 1.



1. A combinação de texto e imagem confere à charge um tom

a) preocupado.

c) atrapalhado.

b) apavorado.

d) engraçado.

2. O acontecimento que quebra as expectativas do leitor e, por isso, torna a tirinha engraçada, é



- a) a ameaça de Garfield.
- b) o olhar de Garfield.
- c) a troca de canais da TV do rato.
- d) a reclamação do rato.

3. A grafia de todas as três palavras só está correta na alternativa:

- a) xícara – chuchu – enchada
- b) excesso – exceção – êxito
- c) berinjela – geito – jejum
- d) paralisar – poetisa – lijeiro

Leia a capa do jornal e responda a questão 4.



4. Assinale a alternativa em que ambas palavras ou expressões caracterizam a linguagem informal/popular do jornal:

a) analfa e Tiririca.

c) analfa e xilindró.

b) Luan Santana e “dá mole”.

d) “ler e escrever” e São Gonça.

Leia o texto abaixo para responder a questão 5.

### **O menino que mentia**

Um pastor costumava levar seu rebanho para fora da aldeia. Um dia resolveu pregar uma peça nos vizinhos.

– Um lobo! Socorro! Ajudem-me! Ele vai comer minhas ovelhas! Os jovens e adultos da vizinhança tinham largado o trabalho e saíram correndo para o campo para socorrer o menino.

Mas encontraram-no às gargalhadas. Não havia lobo nenhum.

Ainda outra vez ele fez a mesma brincadeira e todos vieram ajudar; e ele caçou de todos.

Mas um dia o lobo apareceu de fato e começou a atacar as ovelhas. Morrendo de medo, o menino quis sair correndo.

– Um lobo! Um lobo! Socorro!

Os vizinhos ouviram, mas acharam que era caçoada. Ninguém socorreu e o pastor perdeu todo o rebanho.

Ninguém acredita quando o mentiroso fala a verdade.

(BENNETT, William J. O livro das virtudes para crianças. Rio de Janeiro: Nova Fronteira, 1997.)

5. Assinale na palavra que é sinônima de “mentira”:

( a ) maldade.

( c ) verdade.

( b ) fraude.

( d ) honestidade.

Leia os trechos de uma entrevista com Anderson Silva para responder as questões 6, 7 e 8.

Anderson da Silva trilhou um longo caminho até se tornar um ídolo. Nascido em São Paulo em 14 de abril de 1975, teve de lidar cedo com a separação dos pais. Sem condições financeiras de criá-lo, a mãe e a avó o deixaram aos cuidados de Edith, tia e madrinha, que ele trata como mãe, em Curitiba, para onde se mudou aos 4 anos.

(clubalfa.abril.com.br/esportes)

6. O trecho ao lado aparece como introdução da entrevista e tem como finalidade

- a) apresentar a situação financeira do entrevistado.
- b) listar todos os parentes próximos do entrevistado.
- c) apresentar dados gerais sobre a vida do entrevistado.
- d) mostrar que o entrevistado era filho de pais separados.

**Você descreve um episódio no livro, uma experiência sua com o racismo...**

[Interrompendo.] Na verdade foi um choque.

**Foi a sua primeira experiência?**

Não. Minha irmã sofreu um ato de racismo na escola. Eu era muito pequeno, mas aquilo ficou bem claro na minha mente. Lembro que meus tios sentaram com a gente em casa e conversaram sobre o assunto. Minha irmã foi para a escola, e os amiguinhos falaram: “Ah,

vamos pintar ela de branco”. Pegaram um giz e começaram a passar nela. Minha irmã de criação.

(clubalfa.abril.com.br/esportes)

7. A frase “Ah, vamos pintar ela de branco” aparece entre aspas na entrevista para reproduzir a fala

- a) dos amiguinhos da escola.
- b) da irmã do entrevistado.
- c) do entrevistado.
- d) do entrevistador.

**E, drogas, já te ofereceram?**

Nunca.

**Quando você era jovem, deve ter conhecido muita gente que devia estar envolvida...**

Tive vários amigos que usavam drogas, fui em várias festas em que amigos estavam usando. Mulheres e homens usando drogas. Meus amigos de verdade nunca me ofereceram.

## **Você nunca experimentou nem um baseado?**

Nunca. Nunca coloquei um cigarro na minha boca. A única coisa que experimentei foi bebida alcoólica. Eu não curto, não gosto. Sou totalmente careta.

(clubalfa.abril.com.br/esportes)

**8.** Anderson Silva se declara “totalmente careta” porque

- a) seus amigos nunca lhe ofereceram drogas.
- b) não curte e não gosta de nenhuma droga.
- c) nunca bebeu e nem pôs um cigarro na boca.
- d) experimentou algumas drogas e não gostou.

## **2ª PARTE: REDAÇÃO**

**PROFESSORAS: JOYCE APARECIDA BERTANHA**

**GISLAINE APARECIDA DOS REIS**

Leia uma parte da entrevista de Anderson da Silva e responda as questões

### **CONHEÇA UM POUCO DA VIDA DO GRANDE LUTADOR**

Anderson da Silva lutador brasileiro de artes marciais mista e ex-Campeão de Peso Médio do UFC, trilhou um longo caminho até se tornar um ídolo. Nascido em São Paulo em 14 de abril de 1975, teve de lidar cedo com a separação dos pais. Sem condições financeiras de criá-lo, a mãe e a avó o deixaram aos cuidados de Edith, tia e madrinha, que ele trata como mãe, em Curitiba, para onde se mudou aos 4 anos.

(clubalfa.abril.com.br/esportes)

**Clubalfa: E, drogas, já te ofereceram?**

**Anderson:** Nunca.

**Clubalfa: Quando você era jovem, deve ter conhecido muita gente que devia estar envolvida...**

**Anderson:** Tive vários amigos que usavam drogas, fui em várias festas em que amigos estavam usando. Mulheres e homens usando drogas. Meus amigos de verdade nunca me ofereceram.

**Clubalfa: Você nunca experimentou nem cigarro?**

**Anderson:** Não. Nunca coloquei um cigarro na minha boca. A única coisa que experimentei foi bebida alcoólica. Eu não curto bebidas alcólicas, não gosto. Sou totalmente careta.

**Clubalfa: Você descreve um episódio no livro, uma experiência sua com o racismo...**

**Anderson:** [Interrompendo.] Na verdade foi um choque.

### **Clubalfa: Foi a sua primeira experiência?**

**Anderson:** Não. Minha irmã sofreu um ato de racismo na escola. Eu era muito pequeno, mas aquilo ficou bem claro na minha mente. Lembro que meus tios sentaram com a gente em casa e conversaram sobre o assunto. Minha irmã foi para a escola, e os amiguinhos falaram: “Ah, vamos pintar ela de branco”. Pegaram um giz e começaram a passar nela. Minha irmã de criação.

9. O gênero textual lido é uma entrevista. Por quê?

- a) Relata fatos do cotidiano, possui personagens e texto curto.
- b) Possui uma linguagem clara e objetiva, tem vários entrevistados, informa e se aprofunda sobre um assunto abordado.
- c) É produzido pela interação entre duas pessoas, entrevistado e entrevistador. Compõe-se de uma introdução (traz informação sobre a pessoa entrevistada), título, assunto (o qual será relatado pelas perguntas e respostas).
- d) Nenhuma das alternativas.

10. O trecho acima aparece como introdução da entrevista e tem como finalidade:

- a) Apresentar a situação financeira do entrevistado.
- b) Enumerar todos os parentes próximos do entrevistado.
- c) Demonstrar que o entrevistado era filho de pais separados.
- d) Apresentar as informações pessoais do entrevistado.

11. Anderson Silva se declara “totalmente careta”, porque:

- a) Não curte; não gosta de nenhuma droga, bebidas alcólicas e nem de cigarros.
- b) Nunca bebeu e nem pôs um cigarro na boca.
- c) Seus amigos já lhe ofereceram drogas, mas não aceitou.
- b) Experimentou algumas drogas e não gostou.

12. A frase “Ah, vamos pintar ela de branco” aparece entre aspas na entrevista para reproduzir a fala:

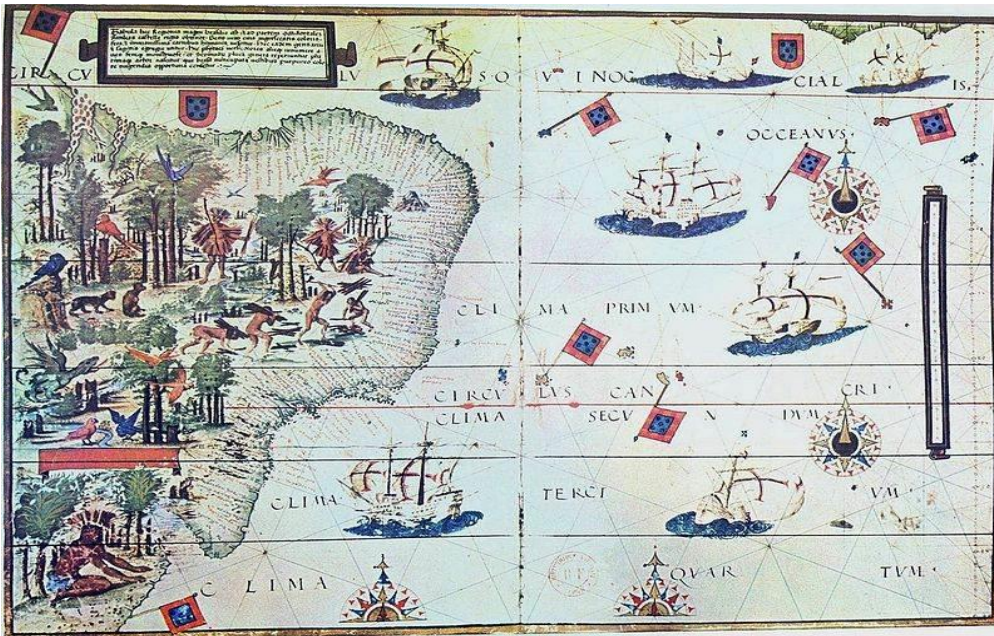
- a) Do entrevistado.
- b) Do entrevistador.
- c) Da irmã do entrevistado.
- d) Dos amiguinhos da escola

### **3ª PARTE: HISTÓRIA**

**PROFESSORAS: MARIÂNGELA DE CASTRO ARAUJO DONATO**

**ELISÂNGELA CASTAGINE GIMENEZ RIBEIRO**

13. Observe atentamente a imagem abaixo.



Neste mapa, produzido no século XVI, aparece uma atividade econômica importante da América Portuguesa que se iniciou logo nos primeiros anos após a chegada dos portugueses.

Identifique esta atividade econômica.

- |                             |                          |
|-----------------------------|--------------------------|
| a) Exploração do café       | c) Exploração de animais |
| b) Exploração do pau-brasil | d) Exploração indígena   |

14. Considere a frase a seguir:

As construções existentes, também chamadas de \_\_\_\_\_, eram usadas para armazenar as toras de \_\_\_\_\_ que seriam embarcadas nos navios \_\_\_\_\_ e posteriormente vendidas na \_\_\_\_\_.

- a) feitorias – pau-brasil – portugueses – África.
- b) feitorias – pau-brasil – portugueses – América.
- c) feitorias – pau-brasil – portugueses – Europa.
- d) feitorias – pau-brasil – espanhóis – América.

15. Em relação aos indígenas, responda as questões abaixo com **C** para frase correta e **F** para a frase falsa.

( ) Estudos atuais revelam que, por volta de 1400, viviam no atual território brasileiro mais de mil povos indígenas, com crenças, hábitos, costumes e formas de organização específicas.

( ) Uma característica comum às aldeias a existência de um espaço central entre as habitações onde se organizavam cerimônias religiosas e festas, e onde as crianças brincavam características que permanecem até hoje.

( ) Para os indígenas, a chuva ou a seca, a caçada ou pescaria bem sucedidas deviam-se à ação de espíritos ligados à natureza.

( ) Para os indígenas, a terra, a floresta, a água e os animais eram de todos, pois não havia propriedade privada.

As alternativas corretas são:

a) C, C, F, F

c) F, F, F, F

b) F, C, C, C

d) C, C, C, C

**16.** O que os portugueses ofereciam para os índios em troca do seu trabalho?

- a) Ofereciam dinheiro porque os índios gostavam de comprar roupas.
- b) Para convencer os indígenas a fazer esse trabalho, os espanhóis ofereciam a eles anzóis, machados, facas, espelhos e pentes.
- c) Para convencer os indígenas a fazer esse trabalho, os portugueses ofereciam a eles anzóis, machados, facas, espelhos e pentes.
- d) Para convencer os indígenas a fazer esse trabalho, os portugueses ofereciam a eles anzóis, machados, sapatos, celulares e pentes.

#### **4ª PARTE: GEOGRAFIA**

**PROFESSORAS: ELISANGELA CASTAGINE GIMENEZ RIBEIRO**

**TALITA CARVALHO VENANCIO**

**17.** Considere a frase a seguir:

No Brasil, a \_\_\_\_\_ é um fenômeno relativamente \_\_\_\_\_, que ocorreu com muita rapidez. Até a década de \_\_\_\_\_, a maior parte da população \_\_\_\_\_ se concentrava no campo.

As palavras que melhor completam a frase são:

- a) Industrialização – antigo / 1960 – africana.
- b) Urbanização – recente / 1960 – brasileira.
- c) Urbanização – antigo / 1950 – brasileira.
- d) Industrialização – recente / 1960 – brasileira.

**18.** Em 1974, um ano após terem sido definidas pela legislação brasileira, havia em todo país nove regiões metropolitanas: Quais são essas regiões?

- a) São Paulo, Rio de Janeiro, Franca, Ceará, Belém, Recife, Curitiba e Porto Alegre.
- b) São Paulo, Rio de Janeiro, Salvador e Recife.



- c) Belém, Belo Horizonte, Curitiba, Fortaleza, Porto Alegre, Recife, Salvador, São Paulo e Rio de Janeiro.
- d) Belém, Belo Horizonte, Curitiba, Fortaleza, Porto Alegre, Recife, Salvador, Florianópolis e Minas Gerais.

**19.** A unificação da área urbana de duas ou mais cidades, em consequência de seu crescimento horizontal, recebe o nome de:

- a) Conurbação.
- b) Megalópole.
- c) Áreas metropolitanas.
- d) Rede urbana.

**20.** Sobre o espaço rural podemos afirmar:

I - O espaço rural é conhecido majoritariamente pelas atividades econômicas do setor secundário (agricultura, pecuária, extrativismo), além do turismo.

II - No Brasil, é bastante diversificada: o café, a laranja, o feijão, a soja e o milho são apenas alguns dos muitos produtos agrícolas do país.

III- Os minifúndios são propriedades de pequeno e médio porte, encontradas, principalmente nas regiões Nordeste e Norte.

IV- A produção nos latifúndios (propriedade agrícola de grande extensão, pertencente a uma única pessoa, família ou empresa) é geralmente voltada para a exportação.

Assinale a alternativa correta.

- a) Somente a afirmativa I está correta.
- b) Somente as afirmativas I e III estão corretas.
- c) Somente as afirmativas II e IV estão corretas.
- d) Somente a afirmativa II, III e IV está corretas.

## **5ª PARTE: ÉTICA-FILOSOFIA**

**PROFESSORA: MARIÂNGELA DE CASTRO ARAUJO DONATO**

**21.** Aristóteles afirma que cada ser tem uma característica própria, a qual ele chama de:

- a) Essência
- b) Virtude
- c) Reflexão
- d) Personalidade

**22.** Segundo Fernando Savater, um dos traços mais belos da ética Aristóteles é:

- a) O dinheiro
- b) As viagens
- c) A amizade
- d) Os mais pobres

**23.** Qual é a obra na qual Aristóteles dedica-se a pensar sobre a felicidade?

- a) Ética para todos
- b) Ética a Diógenes

c) Ética e Sabedoria

d) Ética a Nicômaco

### 6ª PARTE: MATEMÁTICA

PROFESSORES: GABRIELA PIMENTA BARBOSA MENDES

HENRIQUE ALVES BUENO

24. Qual é a representação algébrica da seguinte situação “o dobro de um número mais dez”?

a.  $2x + 10$

b.  $2x - 10$

c.  $3x + 10$

d.  $3x - 10$

25. Na expressão  $3x + 4$ ; se o valor de  $x$  for igual a 2, qual será o valor da expressão “ $3x + 4$ ”?

a. 8

b. 10

c. 12

d. 14

26. Observe a figura abaixo, e responda qual é o valor que a uva representa?



a. 5

b. 7

c. 9

d. 12

27. O coeficiente numérico do monômio  $-X/3$  é:

a. -1

b.  $-1/3$

c. -3

d. 3

28. Qual dos pares abaixo são termos semelhantes?

a.  $7a$  e  $4a$

b.  $2x$  e  $-6x^2$

c.  $4y$  e  $5y^2$

d.  $-5a$  e  $-4ab$

29. Qual é a expressão que representa o dobro de um número?

a.  $2x$

b.  $3x$

c.  $4x$

d.  $5x$

30. Qual das expressões abaixo é a simplificação da expressão  $2x + 3y + 2x + 3y$ ?

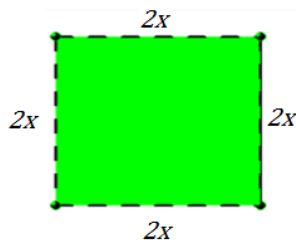
a.  $2x + 3y$

b.  $4x + 4y$

c.  $2x + 6y$

d.  $4x + 6y$

31. Qual é o valor do perímetro do quadrado abaixo:



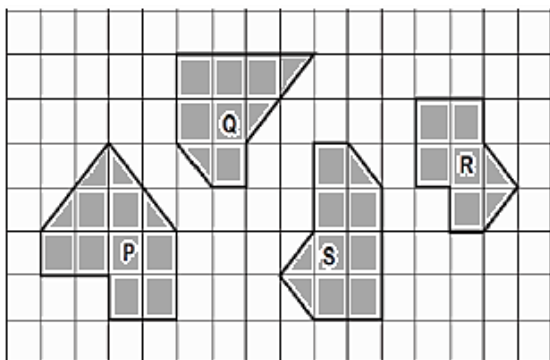
- a.  $2x$
- b.  $4x$
- c.  $6x$
- d.  $8x$

**7ª PARTE: GEOMETRIA**

**PROFESSORAS: LUCIENE RIBEIRO**

**KARINA APARECIDA MATIAS ALVES BERTELI**

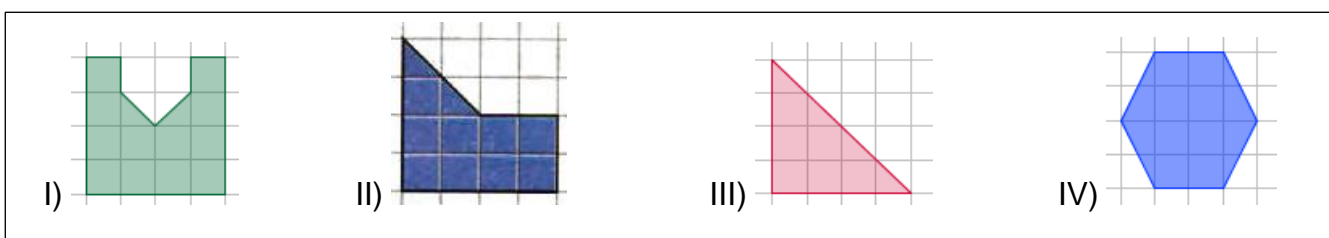
32. Daniel construiu quatro figuras em uma malha quadriculada.



Sobre as **áreas** destas figuras é correto afirmar que:

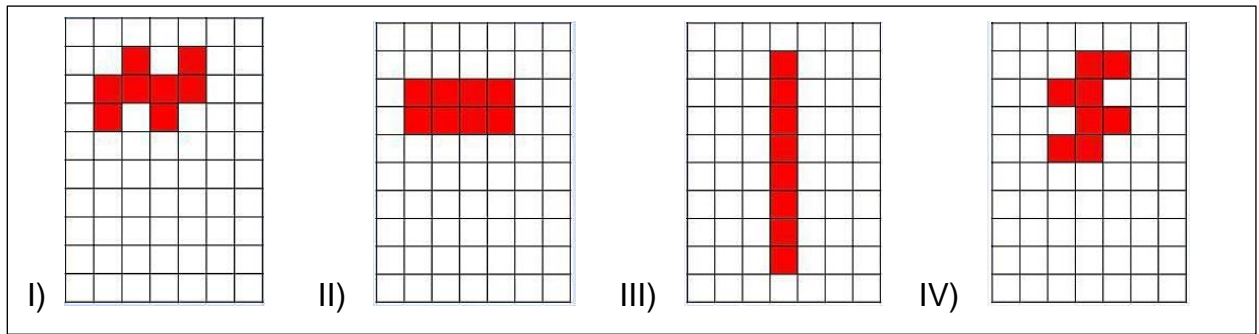
- a. A figura **Q** possui 8 quadradinhos de área.
- b. A figura **P** possui 10 quadradinhos de área.
- c. A figura **S** possui 7,5 quadradinhos de área.
- d. A figura **R** possui 5 quadradinhos de área.

33. Sobre as figuras abaixo é correto afirmar que:



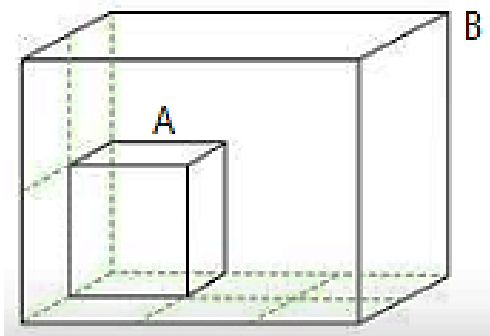
- a. Todas as figuras são equivalentes (possuem mesma área).
- b. A figura IV é maior.
- c. A figura II possui menor área.
- d. A figura I possui maior área.

34. Observando as figuras a seguir, e revendo o conceito de figuras equivalentes, podemos afirmar que:



- a. Nenhuma das figuras acima é equivalente.
- b. Apenas as figuras I e IV são equivalentes.
- c. Todas as figuras são equivalentes.
- d. As figuras II e III não são equivalentes.

35. Quantas caixas A cabem dentro da caixa B?




- a. Cabem 12 caixas A.
- b. Cabem 6 caixas A.
- c. Cabem 10 caixas A.
- d. Cabem 8 caixas A.

### 8ª PARTE: CIÊNCIAS

PROFESSORA: RENATA MALTA FERREIRA

36. Observe as imagens:



Dos vertebrados acima, o único que tem esqueleto cartilaginoso, sem tecido ósseo é:

- a) Tubarão.
- b) Tilápia.
- c) Sapo.
- d) Jacaré.

**37.** Os vertebrados como os peixes, os anfíbios e os répteis são conhecidos como animais de “sangue frio”, também chamado de ectotérmicos. O que isso significa:

- a) Respiram através do pulmão.
- b) Sua temperatura corporal varia de acordo com o ambiente.
- c) Sua temperatura corporal mantém constante, ou seja, é sempre a mesma.
- d) A reprodução é externa.

**38.** Os anfíbios podem ser divididos em anuros, urodelos e ápodes. Os anuros são aqueles que possuem patas, entretanto não apresentam cauda. Entre seus representantes, podemos citar:

- a) Sapos, rãs e salamandras.
- b) Salamandras, tritões e cecílias.
- c) Cobras-cegas, sapos e pererecas.
- d) Sapos, pererecas e rãs.

**39.** Analise as alternativas a seguir e identifique aquela que apresenta uma **característica dos anuros** que permite diferenciá-los dos outros grupos de anfíbios.

- a) Não possuem cauda na fase adulta.
- b) São animais que vivem enterrados.
- c) Possuem quatro patas de tamanho igual.
- d) Não possuem patas.

### **9ª PARTE: INGLÊS**

**PROFESSORES: LUIS ALEXANDRE MACHADO**

**PAULA CRISTINA DAMANTE PEREIRA**

40. 231 em inglês é...

- A. ( ) two hundred thirty one
- B. ( ) two hundred three one
- C. ( ) two hundred one
- D. ( ) two hundred thirty

---

41. three hundred forty two

- A. ( ) 342
- B. ( ) 343
- C. ( ) 432
- D. ( ) 333

---

42. two hundred + three hundred =

- A. ( ) 500
- B. ( ) 600
- C. ( ) 700
- D. ( ) 800

### 10ª PARTE: EDUCAÇÃO FÍSICA

PROFESSOR: MARCIO APARECIDO DA SILVA

43. Em qual país foi criado o futsal?

- (A) Argentina
- (B) Uruguai
- (C) Brasil
- (D) Estados Unidos

44. Quais as posições do futsal?

- (A) Goleiro, fixo, armador, centroavante
- (B) Goleiro, fixo, ala direita, ala esquerda, pivo
- (C) Goleiro, meia direita, armador, centroavante
- (D) fixo, armador, goleiro, zagueiro

45. Qual a duração de uma partida de futsal?

- a) dois tempos de 45 minutos
- b) dois tempos de 20 minutos
- c) dois tempos de 15 minutos
- d) três setes de 25 pontos

## 11ª PARTE: ARTE

PROFESSOR: ROMULO CONRADO REIS

46. O Renascimento Artístico representou uma das vertentes do período renascentista com a profusão de diversas obras. Foi um período de muita inspiração para os artistas dessa época, e teve início exatamente na Europa. Em qual país da Europa exatamente ele teve seu início.

- A) França.
- B) Espanha
- C) Itália
- D) Alemanha.

47. O desenhista e pintor Sandro Boticelli foi um dos principais nomes do Renascimento, ele produziu uma das principais obras desse movimento. Qual seria essa obra?

- A) A sagrada Família.
- B) Pietá
- C) O nascimento da Venus
- D) A virgem do Prado

48. Marque **(V)** para verdadeiro e **(F)** para falso:

- ( ) No renascimento existe a valorização do corpo humano.
- ( ) Na mentalidade renascentista o corpo é visto como Belo.
- ( ) A grande contribuição da arte Renascentista foi a descoberta da perspectiva e da profundidade.
- ( ) Rafael era conhecido por ser um pintor da arte abstrata.

- a) V V F F
- b) F V V V
- c) V V V F
- d) F V V V

**Boa prova!**

